



Bei Fragen und Problemen schreiben
 Sie mir gerne eine E-Mail an:
m.stein@jws-landstuhl.bildung-rp.de

Wochenplan für die Klasse 7 04.01.2021 bis 08.01.2021

Dies ist dein Arbeitsplan für diese Woche. Für jeden Tag gibt es Aufgaben, die erledigt werden müssen. In der Spalte „Material“ steht, was du dafür benötigst. Alle Arbeitsblätter (AB's) findest du nach dem Wochenplan. Zusätzlich sind dort auch alle Seiten aus den Arbeitsheften (AH) oder Büchern, falls dir das Material fehlt.

Zusätzlich gibt es jeden Tag eine **Frage des Tages**. Schreibe alle Antworten auf ein Blockblatt. Falls du die Antwort nicht weißt, benutze das Internet 😊

Frage des Tages

Welches Haustier besitzt Harry Potter?

Kreuze die richtige Antwort an:

A: Einen Schneehasen

B: Eine Schneeeule

C: Einen Eisbären

Montag, 04.01.2021		
Fach	Material	Aufgabe
Ethik		AH S.17 Aufgabe 1: Schreibe deine Ideen zu den Bildern in dein Heft. Aufgabe 2: Schreibe auf, wo du Spuren hinterlässt/hinterlassen kannst.
NaWi	AB 	Der Atemvorgang 1. Lies den Text. 2. Schreibe ihn in dein grünes Heft ab. Zeichne das Bild dazu. 3. Schreibe die Tabelle ebenfalls ab und kreuze an, ob die Aussagen stimmen oder falsch sind.
Musik	Internet-suche	Besuche die Seite: https://www.junge-klassik.de/de/spielen/#/instrumenten-familien 1. Schau und höre dir die Instrumentenfamilien an. 2. Schreibe in dein Heft, welche Instrumentenfamilien zu einem Orchester gehören.

Frage des Tages




Frage des Tages



Dienstag, 05.01.2021		
Fach	Material	Aufgabe
Mathe	2 AB's 	Schaue dir die Figur genau an, baue sie nach, wenn es dir schwerfällt. 1. Überlege, aus welcher Ansicht die Zeichnungen gefertigt wurden. 2. Halte deine Lösungen fest, indem du die Ansichten mit Lineal in dein Heft zeichnest und die Lösung dazu schreibst.
Deutsch	AB 	Arbeitsauftrag zur Berufsfindung
AL (Fr. Fuchs)	Anton-App	Bearbeite die Übung „Material kennenlernen“

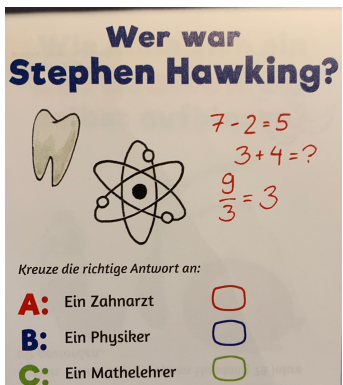
Mittwoch, 06.01.2021		
Fach	Material	Aufgabe
Mathe		AH Teil2 S.5 komplett lösen
Deutsch	Anton-App	Erledige die Übung <u>Adjektive mit -ig und -lich</u>
GL	2 AB's 	Auf den Spuren der ersten Menschen: Lies das Arbeitsblatt. Suche die 3 Fehler im Zeitungstext und schreibe sie auf. Die Altsteinzeit 1. Lies den Text und schreibe ihn ins Heft. 2. Schreibe die Fragen ab und beantworte sie im Heft.
Sport	Internet	7 Minuten Workout Challenge: https://www.youtube.com/watch?v=CIu1AbkNIkg Schaut euch das Video an, lest die Beschreibung, dort findet ihr Hilfen, falls die Übung noch zu schwer ist. Probiert, die Übungen 2-3mal die Woche auszuüben.

Frage des Tages



Donnerstag, 07.01.2021		
Fach	Material	Aufgabe
Mathe		AH Teil 2 S.6 komplett lösen
Deutsch	AB 	Wortbaustelle für Wiewörter 1. Schreibe den Kasten in dein Heft 2. Bearbeite die Aufgaben 1 und 2 und schreibe ebenfalls ins Heft.
Englisch	Anton-App	Übe mit den 4 Lernlisten alle Vokabeln, die wir bisher hatten. Click into English, Unit 1, Unit 2, Unit 3

Frage des Tages



Freitag, 08.01.2021		
Fach	Material	Aufgabe
Mathe	AB 	AB S.166: Rechne alle Aufgaben auf der Seite in dein Heft.
Deutsch	AB 	Wortbaustelle für Wiewörter 1. Schreibe Aufgabe 1 so ins Heft: der Freund – freundlich, die Ruhe – ... 2. Nr. 2 abschreiben
GL	Anton-App	Bearbeite die ersten 3 Aufgabenblöcke zum Leben in der Altsteinzeit : - Das Leben der Menschen - Wohnen in der Altsteinzeit - Werkzeuge und Waffen

Mein Leben in der Gemeinschaft



Ich hinterlasse Spuren



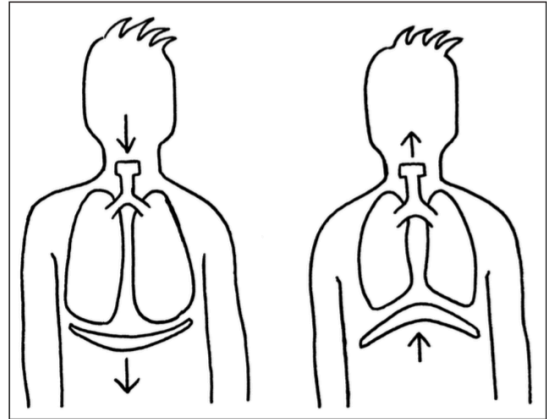
1 Sprecht über die Bilder.
Wo hinterlassen diese Schüler ihre Spuren?



2 Schreibe auf, wo du in deinem Leben deine Spuren hinterlassen kannst. Das heißt, was du tun kannst, um bei anderen in Erinnerung zu bleiben.

Der Atemvorgang

- Da die Lunge selbst keine Muskeln hat, kann sie die Atembewegungen nicht selbst durchführen. Dazu bedarf es des Zwerchfells und der Rippen.
- Das Zwerchfell ist eine gewölbte Muskelfläche, die den Brustraum vom Bauchraum trennt. Wenn sich das Zwerchfell zum Bauchraum hin senkt und die Zwischenrippenmuskeln die Rippen auseinanderziehen, wird der Brustkorb größer und weiter. Die Lunge dehnt sich aus. Durch den entstandenen Unterdruck wird die Luft in die Lunge gesogen.
- Entspannen sich das Zwerchfell und die Zwischenrippenmuskeln wieder, verkleinert sich der Brustkorb. Dadurch verkleinert sich auch die Lunge und die Luft wird hinausgepresst.

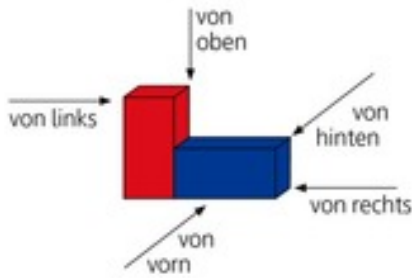


Kreuze an.

	richtig	falsch
Für die Atembewegungen braucht man das Zwerchfell und die Rippen.		
Der Brustkorb verändert sich beim Ein- und Ausatmen nicht.		
Das Zwerchfell trennt den Brustraum vom Bauchraum.		
Wenn sich das Zwerchfell senkt, wird der Brustkorb größer.		
Entspannt sich das Zwerchfell, wird der Brustkorb größer.		
Die Lunge besitzt Muskeln für die Atembewegungen.		
Das Zwerchfell ist eine gewölbte Muskelfläche.		

Ansichten

1 Schaue aus verschiedenen Richtungen.



Welche Ansichten sind dargestellt?

 A	 B	 C	 D
von vorn	von	_____	_____

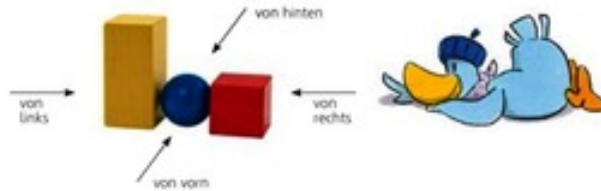
2 Welche Ansichten sind dargestellt?

a)	A	B	C
_____	_____	_____	_____
b)	A	B	C
_____	_____	_____	_____
c)	A	B	C
_____	_____	_____	_____

Evtl. nachbauen.

Körper und ihre Ansichten

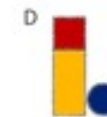
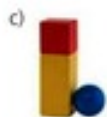
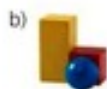
1 Schaue aus verschiedenen Richtungen und ordne zu.



von vorn



2 Welche Ansicht ist jeweils dargestellt?



3 Zeichne die Ansichten.



A	B	C	D
von vorn	von rechts	von hinten	von links

Evtl. nachbauen und von den verschiedenen Seiten betrachten lassen.

Liebe Klasse 7,

ich wünsche euch einen guten Start ins neue Jahr und hoffe, dass ihr und eure Familien gesund seid!

Für die Zeit eures Fernunterrichtes werdet ihr von mir unter anderem Aufgaben zur Berufsorientierung bekommen. Es ist wichtig für euch, zu wissen, welche Berufe für euch in Frage kommen würden. Ein Praktikum kann euch dann zeigen, ob der gewählte Beruf etwas für euch wäre. Herausfinden, welche Berufe es gibt und welche euch gefallen würden, könnt ihr hier auf dieser Seite im Internet:

<https://entdecker.biz-medien.de>

- Start ohne Anmeldung → dem Gastmodus und den Cookies zustimmen
- die Fragen beantworten → Dinge, die ihr mögt, mit Häkchen beantworten
- Dinge, die ihr nicht mögt, abwählen mit dem Kreuz

Aufgabe: Schreibt euch auf, welche Arbeitsbereiche und konkreten Berufe für euch von Interesse wären. Wenn wir wieder Unterricht in der Schule haben, können wir diese besprechen.

Viele Grüße

eure Frau Velten

Runden

1 Runde auf Tausender.



- a) 3 100 ≈ _____ b) 3 400 ≈ _____ c) 3 020 ≈ _____
 3 280 ≈ _____ 3 950 ≈ _____ 3 510 ≈ _____
 3 550 ≈ _____ 3 390 ≈ _____ 3 490 ≈ _____
 3 090 ≈ _____ 3 890 ≈ _____ 3 600 ≈ _____

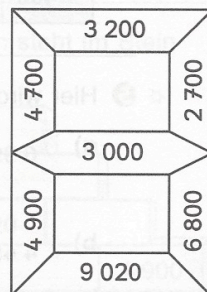
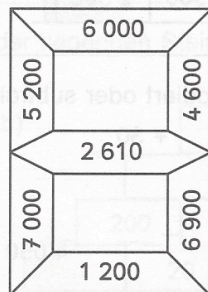
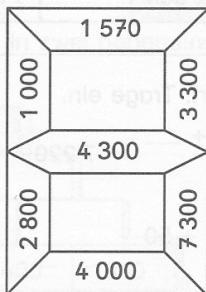
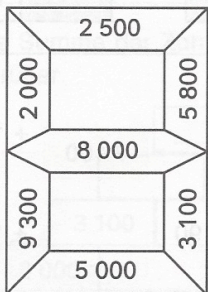
2 Runde auf Hunderter.




- a) 6 110 ≈ _____ b) 6 370 ≈ _____ c) 6 790 ≈ _____
 6 560 ≈ _____ 6 530 ≈ _____ 6 840 ≈ _____
 6 820 ≈ _____ 6 710 ≈ _____ 6 910 ≈ _____
 6 780 ≈ _____ 6 070 ≈ _____ 6 550 ≈ _____

3 Runde. Male das Lösungsfeld aus. Du erhältst ein Lösungswort.

a) Runde auf Tausender.	b) Runde auf Hunderter.	c) Runde auf Hunderter.
7 700	2 480	2 830
2 350	1 240	4 871
3 585	4 661	3 089
1 292	5 173	5 845
5 499	3 250	7 267
5 502	6 839	2 715
2 710	9 261	6 975





Auf den Spuren der ersten Menschen

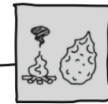
Woher wissen wir heute, was vor vielen Tausend Jahren war?

An verschiedenen Orten in Afrika, Europa und Asien wurden Knochen- und Zahnreste, Werkzeuge aus Stein, Knochen und Holz sowie Feuerstellen, Lager und Gräber gefunden. Durch solche Entdeckungen können wir uns heute ein Bild über die Entwicklung des Menschen machen.

Die hierfür zuständigen Forscher nennt man Archäologen und Anthropologen. Die Archäologie untersucht die vergangenen Zeiten, die Anthropologie ist die Lehre vom Menschen.

- ① Diese Zeitungsmeldung ist frei erfunden und hat Fehler.
Streiche die drei Wörter durch, die ganz sicher falsch sind.





Die Altsteinzeit

Die Steinzeit lässt sich in Alt-, Mittel- und Jungsteinzeit einteilen. Die Altsteinzeit war der längste Zeitabschnitt der Menschheitsgeschichte. Sie dauerte von 2.500.000 v. Chr. bis ca. 8.000 v. Chr.

Der Name Steinzeit kommt daher, dass die Menschen damals ihre Werkzeuge und Waffen zum größten Teil aus Stein herstellten.

Der erste Mensch, der dies gezielt und geschickt konnte, war der Homo habilis (geschickter Mensch).

Mit einem besonderen Schlagstein wurden von einem anderen Stein Splitter abgeschlagen.

Diese Splitter dienten dann als Messer, Schaber oder Bohrer.

Eines der wichtigsten Werkzeuge war der Faustkeil, ein Stein, der genau in eine Hand passte und sehr scharfe Kanten hatte.



❶ Warum heißt die Steinzeit „Steinzeit“?

❷ Eines der wichtigsten Werkzeuge war der:

❸ Unterstreiche die Beschreibung dieses Werkzeuges im Text.




6

Addieren und Subtrahieren

Runden

- 1 a) $4\,500 + \quad 2 = \underline{\quad}$ b) $5\,300 + \quad 4 = \underline{\quad}$ c) $3\,200 + \quad 5 = \underline{\quad}$
 $4\,500 + \quad 20 = \underline{\quad}$ $5\,300 + \quad 40 = \underline{\quad}$ $3\,200 + \quad 50 = \underline{\quad}$
 $4\,500 + \quad 200 = \underline{\quad}$ $5\,300 + \quad 400 = \underline{\quad}$ $3\,200 + \quad 500 = \underline{\quad}$
 $4\,500 + \quad 2\,000 = \underline{\quad}$ $5\,300 + \quad 4\,000 = \underline{\quad}$ $3\,200 + \quad 5\,000 = \underline{\quad}$

- 2 Wie viele Pakete sind es insgesamt?



R: _____

A: _____

- 3 Die Zahlen in jedem Stockwerk ergeben zusammen die Zahl im Dach.

a)

6 000	
4 000	
	500
5 700	
	3 400

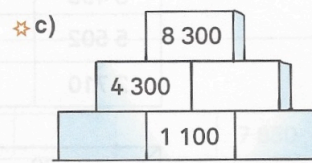
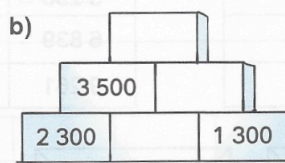
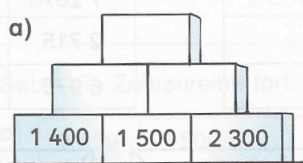
b)

7 000	
3 000	
	300
2 500	
	5 900


c)

4 600	
3 600	
	700
3 800	
	2 400

- 4 Die Summe der Zahlen in zwei nebeneinander liegenden Steinen steht im Stein darüber.



- ✱ 5 Hier wird addiert oder subtrahiert. Trage ein.



Ich kann einfache Zahlen bis 10 000 addieren.




Ich kann einfache Zahlen bis 10 000 subtrahieren.



Wortbaustelle für Wiewörter





Merke:

Namenwörter kannst du mit einem Wortbaustein
-ig -lich -haft -sam
in **Wiewörter** verwandeln.
⇒ der Durst – durst-ig
Wiewörter werden **klein** geschrieben.

- ①  Bilde zu jedem Namenwort ein Wiewort.

Schreibe so: **der Spaß – spaßig**

① **Namenwort** + **-ig** ⇒ **Wiewort**

Spaß Ruhe Wolke Gift Trauer List

② **Namenwort** + **-lich** ⇒ **Wiewort**

Monat Feind Glück Frieden Freund

③ **Namenwort** + **-haft** ⇒ **Wiewort**

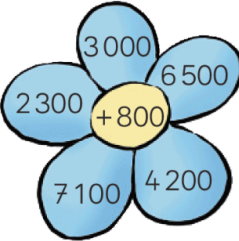
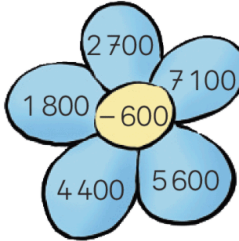

Traum Märchen Fehler Schreck Krampf

- ② Wähle aus jeder Übung zwei Wiewörter aus. Schreibe jeweils einen Satz auf.

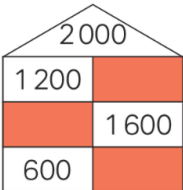
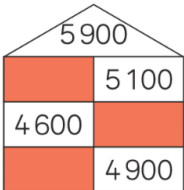


Addieren und Subtrahieren

- 1 a) $1\,700 + 200$ b) $4\,500 + 3\,000$ c) $2\,100 + 1\,600$ d) $3\,900 + 200$
 $3\,400 + 400$ $2\,900 + 1\,000$ $5\,800 + 3\,100$ $4\,700 + 500$
 $2\,600 + 300$ $3\,400 + 5\,000$ $4\,300 + 2\,400$ $7\,800 + 600$


- 2 a) $5\,800 - 500$ b) $7\,600 - 2\,000$ c) $8\,800 - 2\,500$ d) $9\,800 - 900$
 $2\,500 - 300$ $5\,100 - 4\,000$ $4\,500 - 1\,200$ $6\,200 - 500$
 $4\,800 - 600$ $6\,300 - 3\,000$ $7\,600 - 4\,300$ $7\,000 - 700$

3 a)  b)  c) 

- 4 a) $2\,300 + 40$ b) $7\,900 + 90$ c) $5\,600 - 50$ ☆ d) $4\,000 - 10$
 $1\,400 + 70$ $8\,100 + 70$ $7\,200 - 80$ $8\,000 - 70$
 $4\,800 + 10$ $9\,400 + 50$ $4\,300 - 60$ $9\,000 - 80$

5 a)  b)  c)  d) 

- 6 Welche Frage passt? Rechne aus.

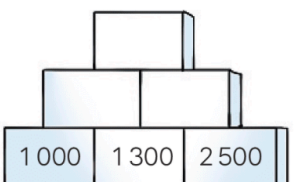
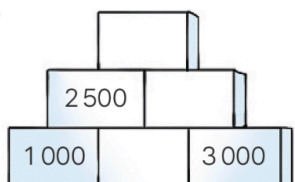
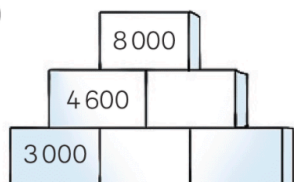


Wie lang ist der Anhänger?

Wie viele Kisten sind insgesamt geladen?


Wie viel kosten alle Kisten zusammen?

- 7 Die Summe von zwei unteren Zahlen ist die Zahl im Stein darüber.

a)  b)  ☆ c) 



Wortbaustelle für Wiewörter



① Ergänze die Tabelle.

Entscheide, welchen Wortbaustein du anhängen kannst.

Namenwort	Wortbaustein -ig	Wortbaustein -lich
der Freund	_____	freundlich
die Ruhe		
das Gift		
der Spaß		
der Sommer		
das Ungeheuer		
der Abend		
der Schmutz		
der Tag		
die List		
der Frieden		
der Rost		

② Ergänze passende Wiewörter mit **-ig** aus der Aufgabe ①.

① die _____ Schlange

② die _____ Nacht

③ der _____ Himmel

④ der _____ Fuchs

⑤ der _____ Fußboden

⑥ der _____ Nagel